



**ФЕДЕРАЛЬНОЕ АГЕНТСТВО ВОЗДУШНОГО ТРАНСПОРТА
(РОСАВИАЦИЯ)**

**ФЕДЕРАЛЬНОЕ ГОСУДАРСТВЕННОЕ БЮДЖЕТНОЕ ОБРАЗОВА-
ТЕЛЬНОЕ УЧРЕЖДЕНИЕ ВЫСШЕГО ОБРАЗОВАНИЯ
«САНКТ-ПЕТЕРБУРГСКИЙ ГОСУДАРСТВЕННЫЙ УНИВЕРСИТЕТ
ГРАЖДАНСКОЙ АВИАЦИИ»**

УТВЕРЖДАЮ



/ Ю.Ю. Михальчевский

Иван 2021 года

РАБОЧАЯ ПРОГРАММА ДИСЦИПЛИНЫ

Физика

Специальность

**25.05.05 Эксплуатация воздушных судов и организация
воздушного движения**

Специализация

«Организация радиотехнического обеспечения полетов воздушных судов»

Квалификация выпускника
инженер

Форма обучения
очная

Санкт-Петербург
2021

1 Цели освоения дисциплины

Целями дисциплины «Физика» являются: формирование у студентов современного естественнонаучного мировоззрения, освоение ими современного стиля физического мышления, выработка навыков использования фундаментальных законов, теорий классической и современной физики, а также методов физического исследования как основы системы профессиональной деятельности.

Задачи дисциплины:

– овладение фундаментальными понятиями, законами и теориями классической и современной физики, а также методами практического приложения физических знаний;

– формирование физического мышления и основ естественнонаучной картины мира;

– овладение приемами и методами решения конкретных практических задач из разных областей физики.

Дисциплина обеспечивает подготовку выпускника к решению задач профессиональной деятельности эксплуатационно-технологического типа.

2 Место дисциплины в структуре ОПОП ВО

Дисциплина «Физика» представляет собой дисциплину, относящуюся к Базовой части цикла С.2 дисциплин ОПОП ВО.

Дисциплина «Физика» базируется на результатах обучения, полученных при изучении дисциплины «Математика».

Дисциплина «Физика» является обеспечивающей для следующих дисциплин (модулей): «Теоретические основы радионавигации и радиолокации», «Управление качеством», «Безопасность жизнедеятельности», «Авиационная безопасность», «Организация воздушного движения», «Радиотехническое оборудование аэродромов», «Автоматизированные системы управления», «Теория транспортных систем», «Авиационная метеорология», «Метрология, стандартизация и сертификация», «Экология Материаловедение и технология конструкционных материалов», «Механика», «Электротехника и электроника», «Теория радиотехнических цепей и сигналов», «Общая теория радиоэлектронных систем».

Дисциплина «Физика» изучается во 2 и 3 семестрах.

3 Компетенции обучающегося, формируемые в результате освоения дисциплины

Процесс освоения дисциплины направлен на формирование следующих компетенций:

Код компетенции/ индикатора	Результат обучения: наименование компетенции; индикаторы компетенции
ОПК-10	Способен использовать основные законы математических и естественнонаучных дисциплин в профессиональной деятельности, в том числе с использованием программных средств
$ИД_{ОПК\ 10}^1$	Знает и понимает основные законы математики и естественных наук и важность их использования в профессиональной деятельности
$ИД_{ОПК\ 10}^2$	Использует основные законы математики и естественных наук, в том числе для решения профессиональных задач, применяет программные средства
ОПК-11	Способен использовать основные понятия, принципы, законы и закономерности общей и прикладной теории систем для решения задач профессиональной деятельности
$ИД_{ОПК\ 11}^1$	Знает основные понятия, принципы, законы и закономерности общей и прикладной теории систем, понимает важность их использования в профессиональной деятельности
$ИД_{ОПК\ 11}^2$	Использует понятия, принципы, законы и закономерности общей и прикладной теории систем для решения задач профессиональной деятельности

Планируемые результаты изучения дисциплины:

Знать:

- основные понятия, законы и модели механики, электричества и магнетизма, колебаний и волн, квантовой физики, молекулярной физики и термодинамики, оптики, атомной и ядерной физики ($ИД_{ОПК\ 10}^1, ИД_{ОПК\ 11}^1$);

- методы теоретического и экспериментального исследования в физике ($ИД_{ОПК\ 10}^1, ИД_{ОПК\ 11}^1$);

- математические модели простейших систем и процессов в естествознании и технике ($ИД_{ОПК\ 10}^1, ИД_{ОПК\ 11}^1$).

Уметь:

- решать типовые задачи по основным разделам курса физики, используя методы математического анализа ($ИД_{ОПК\ 11}^1, ИД_{ОПК\ 11}^2$);

- употреблять математическую символику для выражения количественных и качественных отношений объектов ($ИД_{ОПК\ 10}^1, ИД_{ОПК\ 10}^2$);

- использовать физические законы при анализе и решении проблем профессиональной деятельности ($ИД_{ОПК\ 10}^1, ИД_{ОПК\ 11}^1, ИД_{ОПК\ 10}^2, ИД_{ОПК\ 11}^2$);

- применять математические методы при решении типовых профессиональных задач ($ИД_{ОПК\ 10}^1, ИД_{ОПК\ 11}^1, ИД_{ОПК\ 10}^2, ИД_{ОПК\ 11}^2$).

Владеть:

- методами построения математической модели типовых профессиональных задач и содержательной интерпретации полученных результатов ($ИД_{ОПК10}^1, ИД_{ОПК11}^1, ИД_{ОПК10}^2, ИД_{ОПК11}^2$);
- методами проведения физических измерений, методами корректной оценки погрешностей при проведении физического эксперимента ($ИД_{ОПК10}^1, ИД_{ОПК11}^1, ИД_{ОПК10}^2, ИД_{ОПК11}^2$).

4 Объем дисциплины и виды учебной работы

Общая трудоемкость дисциплины составляет 9 зачетных единиц, 324 академических часа.

Наименование	Всего часов	Семестры	
		2	3
Общая трудоемкость дисциплины (модуля)	324	180	144
Контактная работа:	179	74,5	58,5
лекции (Л)	64	36	28
практические занятия (ПЗ)	32	18	14
семинары (С)	-	-	-
лабораторные работы (ЛР)	32	18	14
курсовой проект (работа)	-	-	-
Самостоятельная работа студента (СРС)	124	72	52
Контрольные работы (количество) (КР)	-	-	
в том числе контактная работа			
Промежуточная аттестация	72	36	36
контактная работа	5	2,5	2,5
самостоятельная работа по подготовке к экзамену	67	экзамен 33,5	экзамен 33,5

5 Содержание дисциплины

5.1. Соотнесения тем (разделов) дисциплины и формируемых компетенций.

Разделы (темы) дисциплины	Количество часов	Компетенции		Образовательные технологии	Оценочные средства
		ОПК-10	ОПК-11		
Раздел 1. Механика					
Тема 1.1. Кинематика и динамика материальной точки	18	+	+	Л, ПЗ, ЛР, РКС, СРС	ВК, УО, РЗ, ЗЛР, СЗ
Тема 1.2. Работа и энергия	8	+	+	Л, ПЗ, РКС, СРС	УО, РЗ, СЗ
Тема 1.3. Механика твердого тела	6	+	+	Л, ПЗ, РКС, СРС	УО, РЗ, СЗ
Тема 1.4. Законы сохранения в механике	7	+	+	Л, ПЗ, РКС, СРС	УО, РЗ, СЗ
Тема 1.5. Механика сплошных сред	5	+	+	Л, ПЗ, РКС, СРС	УО, РЗ, СЗ
Тема 1.6. Элементы специальной теории относительности	4	+	+	Л, ПЗ, РКС, СРС	УО, РЗ, СЗ
Раздел 2. Молекулярная физика и термодинамика					
Тема 2.1. Молекулярно-кинетическая теория идеальных газов	4	+	+	Л, ПЗ, РКС, СРС	УО, РЗ, СЗ
Тема 2.2. Статистическая физика	7	+	+	Л, ПЗ, РКС, СРС	УО, РЗ, СЗ
Тема 2.3. Термодинамика	9	+	+	Л, ПЗ, ЛР, РКС, СРС	УО, РЗ, ЗЛР, СЗ
Тема 2.4. Явления переноса	8	+	+	Л, ПЗ, ЛР, РКС, СРС	УО, РЗ, ЗЛР, СЗ
Тема 2.5. Второй закон термодинамики. Реальные газы. Строение жидкостей	14	+	+	Л, ПЗ, ЛР, РКС, СРС	УО, РЗ, ЗЛР, СЗ
Раздел 3. Электродинамика					
Тема 3.1. Электростатика	7	+	+	Л, ПЗ, РКС, СРС	УО, РЗ, СЗ
Тема 3.2. Электрическое поле в диэлектрической среде	5	+	+	Л, ПЗ, РКС, СРС	УО, РЗ, СЗ
Тема 3.3. Проводники в электростатическом поле	7	+	+	Л, ПЗ, РКС, СРС	УО, РЗ, СЗ
Тема 3.4. Постоянный электрический ток	11	+	+	Л, ПЗ, ЛР, РКС, СРС	УО, РЗ, ЗЛР, ЗЛР, СЗ
Тема 3.5. Магнитное поле в вакууме	12	+	+	Л, ПЗ, ЛР, РКС, СРС	УО, РЗ, СЗ
Тема 3.6. Магнитные свойства вещества	5	+	+	Л, ПЗ, РКС, СРС	УО, РЗ, СЗ
Тема 3.7. Электромагнитная индукция. Уравнения Максвелла	7	+	+	Л, ПЗ, РКС, СРС	УО, РЗ, СЗ
Раздел 4. Физика колебаний и волн					
Тема 4.1. Гармонические колебания	4	+	+	Л, ПЗ, РКС,	УО, РЗ, СЗ

Разделы (темы) дисциплины	Количество часов	Компетенции		Образовательные технологии	Оценочные средства
		ОПК-10	ОПК-11		
				СРС	
Тема 4.2. Затухающие и вынужденные колебания	5	+	+	Л, ПЗ, РКС, СРС	УО, РЗ, СЗ
Тема 4.3. Волны	14	+	+	Л, ПЗ, ЛР, РКС, СРС	УО, РЗ, ЗЛР, СЗ
Раздел 5. Волновая оптика					
Тема 5.1. Элементы геометрической оптики	13	+	+	Л, ПЗ, ЛР, РКС, СРС	УО, РЗ, ЗЛР, СЗ
Тема 5.2. Интерференция света	9	+	+	Л, ПЗ, ЛР, РКС, СРС	УО, РЗ, ЗЛР, СЗ
Тема 5.3. Дифракция света	8	+	+	Л, ПЗ, ЛР, РКС, СРС	УО, РЗ, ЗЛР, СЗ
Тема 5.4. Поляризация света	8	+	+	Л, ПЗ, ЛР, РКС, СРС	УО, РЗ, ЗЛР, СЗ
Тема 5.5. Взаимодействие электромагнитных волн с веществом	11	+	+	Л, ПЗ, ЛР, РКС, СРС	УО, РЗ, ЗЛР, СЗ
Раздел 6. Квантовая физика					
Тема 6.1. Квантовая природа излучения	10	+	+	Л, ПЗ, РКС, СРС	УО, РЗ, СЗ
Тема 6.2. Элементы квантовой механики	8	+		Л, ПЗ, РКС, СРС	УО, РЗ, СЗ
Тема 6.3. Элементы физики твердого тела	4	+	+	Л, ПЗ, РКС, СРС	УО, РЗ, СЗ
Раздел 7. Атомная физика					
Тема 7.1. Теория атома водорода	7	+		Л, ПЗ, РКС, СРС	УО, РЗ, СЗ
Тема 7.2. Атомное ядро	3	+		Л, ПЗ, РКС, СРС	УО, РЗ, СЗ
Тема 7.3. Элементарные частицы	4	+		Л, ПЗ, РКС, СРС	УО, РЗ, СЗ

Сокращения: Л – лекция, ПЗ – практическое занятие, ЛР - лабораторная работа, СРС – самостоятельная работа студента, РКС – разбор конкретной ситуации, ВК – входной контроль, УО – устный опрос, ЗЛР - защита лабораторной работы, РЗ – расчетная задача, СЗ – ситуационная задача.

5.2. Разделы дисциплин и виды занятий

Наименование раздела (темы) дисциплины	Л	ПЗ	С	ЛР	СРС	КР	Всего часов
Раздел 1. Механика							
Тема 1.1. Кинематика и динамика материальной точки	2	2		6	8		18
Тема 1.2. Работа и энергия	2	2			4		8
Тема 1.3. Механика твердого тела	2	2			2		6
Тема 1.4. Законы сохранения в механике	2				5		7
Тема 1.5. Механика сплошных сред	2				3		5
Тема 1.6. Элементы специальной теории относительности	2				2		4
Раздел 2. Молекулярная физика и термодинамика							
Тема 2.1. Молекулярно-кинетическая теория идеальных газов	2				2		4
Тема 2.2. Статистическая физика	2	1			4		7
Тема 2.3. Термодинамика	2	2		2	3		9
Тема 2.4. Явления переноса	2	1		2	3		8
Тема 2.5. Второй закон термодинамики. Реальные газы. Строение жидкостей	2	2		2	8		14
Раздел 3. Электродинамика							
Тема 3.1. Электростатика	2	1			4		7
Тема 3.2. Электрическое поле в диэлектрической среде	2				3		5
Тема 3.3. Проводники в электростатическом поле	2	1			4		7
Тема 3.4. Постоянный электрический ток	2	2		2	5		11
Тема 3.5. Магнитное поле в вакууме	2	1		4	5		12
Тема 3.6. Магнитные свойства вещества	2				3		5
Тема 3.7. Электромагнитная индукция. Уравнения Максвелла	2	1			4		7
Итого за 2 семестр	36	18		18	72		144
Раздел 4. Физика колебаний и волн							
Тема 4.1. Гармонические колебания	1	1			2		4
Тема 4.2. Затухающие и вынужденные колебания	1	1			3		5
Тема 4.3. Волны	4	2		2	6		14
Раздел 5. Волновая оптика							
Тема 5.1. Элементы геометрической оптики	2	2		4	5		13
Тема 5.2. Интерференция света	2	1		2	4		9
Тема 5.3. Дифракция света	2	1		2	3		8
Тема 5.4. Поляризация света	2			2	4		8
Тема 5.5. Взаимодействие электромагнитных волн с веществом	2	2		2	5		11
Раздел 6. Квантовая физика							
Тема 6.1. Квантовая природа излучения	2	4			4		10
Тема 6.2. Элементы квантовой механики	2				6		8
Тема 6.3. Элементы физики твердого тела	2				2		4

Наименование раздела (темы) дисциплины	Л	ПЗ	С	ЛР	СРС	КР	Всего часов
Раздел 7. Атомная физика							
Тема 7.1. Теория атома водорода	2				5		7
Тема 7.2. Атомное ядро	2				1		3
Тема 7.3. Элементарные частицы	2				2		4
Итого за 3 семестр	28	14		14	52		108
Промежуточная аттестация							
Итого по дисциплине:	64						
Всего по дисциплине							

Сокращения: Л – лекция, ПЗ – практическое занятие, ЛР - лабораторная работа, С – семинар, СРС – самостоятельная работа студента.

5.3 Содержание дисциплины

Раздел 1. Механика

Тема 1.1. Кинематика Динамика материальной точки

Уравнения кинематики. Траектория. Перемещение. Скорость и ускорение материальной точки. Законы Ньютона. Импульс. Закон изменения полного импульса. Движение тел переменной массы.

Тема 1.2. Работа и энергия

Механическая работа. Кинетическая энергия. Потенциальная сила. Потенциальная энергия. Закон изменения механической энергии.

Тема 1.3. Механика твердого тела

Вращательное движение. Угловая скорость. Угловое ускорение. Соотношение между линейными и угловыми характеристиками. Момент силы относительно оси. Момент импульса. Момент инерции. Теорема Гюйгенса-Штейнера. Работа силы, приложенной к вращающемуся телу. Кинетическая энергия вращающегося тела. Основной закон динамики вращательного движения твердого тела.

Тема 1.4. Законы сохранения в механике

Законы сохранения импульса, механической энергии, момента импульса. Связь законов сохранения с симметриями пространства и времени. Движение в поле центральной силы. Законы Кеплера.

Тема 1.5. Механика сплошных сред

Деформации твердого тела. Закон Гука. Уравнение неразрывности. Уравнение Бернулли. Вязкость. Формула Ньютона. Метод Пуазейля. Метод Стокса. Эффект Магнуса. Аэродинамическая сила крыла.

Тема 1.6. Элементы специальной теории относительности

Преобразования Галилея. Принцип относительности Галилея. Постулаты специальной теории относительности. Преобразования Лоренца. Релятивистское сокращение длины. Релятивистское замедление времени. Относительность одновременности событий. Пространственно-временной интервал. Формулы релятивистской динамики. Полная энергия. Связь между массой и энергией.

Раздел 2. Молекулярная физика и термодинамика

Тема 2.1. Молекулярно-кинетическая теория идеальных газов

Идеальный газ. Опытные законы идеального газа. Уравнение состояния идеального газа. Основное уравнение молекулярно-кинетической теории идеального газа. Закон Больцмана о равномерном распределении энергии по степеням свободы молекул.

Тема 2.2. Статистическая физика

Статистический и термодинамический метод. Закон Максвелла о распределении молекул идеального газа по скоростям. Барометрическая формула. Распределение Больцмана.

Тема 2.3. Термодинамика

Внутренняя энергия и работа термодинамической системы. Теплота. Теплоемкость. Первый закон термодинамики. Работа газа в изопроцессах. Уравнение адиабаты идеального газа. Политропические процессы.

Тема 2.4. Явления переноса

Средняя длина свободного пробега молекул идеального газа. Законы Фика, Фурье, Ньютона. Диффузия в газах. Теплопроводность газов. Вязкость газов. Закон Стокса.

Тема 2.5. Второй закон термодинамики. Реальные газы

Микро- и макро-состояния. Энтропия. Второй закон термодинамики. Круговые процессы. КПД цикла. Цикл Карно. Термический КПД. Реальные газы. Изотермы Эндрюса. Уравнение Ван-дер-Ваальса. Внутренняя энергия реального газа.

Раздел 3. Электродинамика

Тема 3.1. Электростатика

Закон сохранения заряда. Закон Кулона. Электрическое поле. Напряженность электрического поля. Потенциал. Напряженность как градиент потенциала. Потенциальная энергия системы электрических зарядов. Расчет разности потенциалов электрического поля в частных случаях. Поток вектора напряжен-

ности. Теорема Гаусса для электрического поля в вакууме. Применение теоремы Гаусса к расчету электрических полей в вакууме.

Тема 3.2. Электрическое поле в диэлектрической среде

Поляризация диэлектриков. Поляризованность. Электрическое поле в диэлектрике. Электрическое смещение. Связь электрического смещения с напряженностью и поляризованностью. Теорема Гаусса для электрического поля в веществе.

Тема 3.3. Проводники в электростатическом поле

Проводники в электрическом поле. Электрическая емкость уединенного проводника. Взаимная электрическая емкость двух проводников. Электрическая емкость плоского, цилиндрического и сферического конденсаторов. Энергия электрического поля. Объемная плотность энергии электрического поля.

Тема 3.4. Постоянный электрический ток

Сила и плотность электрического тока. Закон Ома для однородного участка цепи. Сопротивление и его зависимость от температуры. Закон Ома для неоднородного участка цепи. Закон Ома для замкнутой цепи. Работа и мощность тока. Закон Джоуля-Ленца. Электродвижущая сила источника тока. Разветвленные цепи. Правила Кирхгофа. Электронная теория проводимости.

Тема 3.5. Магнитное поле в вакууме

Закон Био-Савара-Лапласа. Магнитное поле в центре кругового проводника с током. Магнитное поле прямого тока. Закон Ампера. Взаимодействие параллельных токов. Магнитное поле движущегося заряда. Закон полного тока. Магнитное поле соленоида. Поток магнитной индукции. Теорема Гаусса. Работа по перемещению проводника с током в магнитном поле. Сила Лоренца. Движение заряженных частиц в магнитном поле. Эффект Холла.

Тема 3.6. Магнитные свойства вещества

Магнитное поле в средах. Магнитный момент. Гипотеза Ампера. Намагниченность. Опыт Эйнштейна-де Гааза. Магнитное поле в веществе. Напряженность магнитного поля. Связь магнитной индукции с напряженностью и намагниченностью.

Тема 3.7. Электромагнитная индукция. Уравнения Максвелла

Явление электромагнитной индукции. Закон Фарадея. Правило Ленца. Природа ЭДС индукции. ЭДС индукции в движущихся проводниках. Самоиндукция. Индуктивность контура. Импульс напряжения при размыкании цепи. Взаимная индукция. Трансформаторы. Энергия магнитного поля. Объемная плотность энергии магнитного поля. Основы теории Максвелла для электромагнитного поля.

Раздел 4. Физика колебаний и волн

Тема 4.1. Гармонические колебания

Гармонические колебания. Гармонические осцилляторы. Уравнение гармонических колебаний. Сложение гармонических колебаний.

Тема 4.2. Затухающие и вынужденные колебания

Энергия свободных колебаний. Затухающие свободные колебания. Вынужденные колебания. Резонанс.

Тема 4.3. Волны

Упругая среда. Волновое уравнение. Плоская волна. Скорость звука. Характеристики звуковых волн. Эффект Доплера для упругих волн. Уравнение Максвелла в областях свободных от зарядов и токов. Электромагнитные волны. Характеристики электромагнитных волн. Вектор Пойнтинга.

Раздел 5. Волновая оптика

Тема 5.1. Элементы геометрической оптики

Принцип Ферма. Законы отражения и преломления света. Аберрации линз.

Тема 5.2. Интерференция света

Когерентные волны. Опыт Юнга. Интерференция света в тонких пленках. Кольца Ньютона. Применение интерференции света.

Тема 5.3. Дифракция света

Метод зон Френеля. Дифракция Френеля на отверстии, на диске. Дифракция Фраунгофера на щели, на дифракционной решетке. Дифракция рентгеновских лучей на кристалле. Разрешающая способность оптических устройств. Принципы голографии.

Тема 5.4. Поляризация света

Закон Малюса. Поляризация при падении света на диэлектрик. Закон Брюстера. Двойное лучепреломление. Призма Николя. Вращение плоскости поляризации.

Тема 5.5. Взаимодействие электромагнитных волн с веществом

Дисперсия света. Классическая электронная теория дисперсии. Группа волн. Поглощение света. Рассеяние света.

Раздел 6. Квантовая физика

Тема 6.1. Квантовая природа излучения

Тепловое излучение. Прибор ночного видения. Спектр излучения абсолютно черного тела. Законы теплового излучения. Формула Релея – Джинса. Гипотеза Планка. Формула Планка. Гипотеза Эйнштейна. Связь корпускулярных и волновых свойств света. Давление света. Внешний фотоэффект. Эффект Комптона.

Тема 6.2. Элементы квантовой механики

Волны де Бройля. Опыт Девиссона-Джермера. Соотношение неопределенностей Гейзенберга. Волновая функция. Уравнение Шредингера. Частица в одномерной потенциальной яме.

Тема 6.3. Элементы физики твердого тела

Зонная теория твердых тел. Проводимость полупроводников. Зависимость сопротивления полупроводников от температуры. Контактные явления. Законы Вольта.

Раздел 7. Атомная физика

Тема 7.1. Теория атома водорода

Линейчатый спектр атома водорода. Формула Бальмера. Модели атома. Постулаты Бора. Опыт Франка-Герца. Спектр излучения атома водорода по Бору. Атом водорода в квантовой механике.

Тема 7.2. Атомное ядро

Модели атомного ядра. Ядерные силы. Дефект массы и энергия связи ядра. Естественная радиоактивность. Закон радиоактивного распада. Закономерности α - и β -распада. Искусственная радиоактивность. Ядерные реакции. Ядерные реакции деления и синтеза. Термоядерный реактор. Ядерный реактор на тепловых нейтронах. Дозиметрические единицы.

Тема 7.3. Элементарные частицы

Уровень элементарных частиц. Общие свойства элементарных частиц. Взаимопревращение частиц. Фундаментальные взаимодействия. Лептоны. Адроны. Кварки. Переносчики фундаментальных взаимодействий.

5.4 Практические занятия

№ раздела, темы дисциплины	Тематика практических занятий	Трудоёмкость (часы)
2 семестр		
1	ПР №1 Кинематика и динамика материальной точки	2
1	ПР №2 Работа и энергия	2
1	ПР №3 Механика твердого тела	2
2	ПР №4 Первый закон термодинамики. Теплоемкость	2
2	ПР №5 Статистические методы в молекулярно-кинетической теории. Явления переноса	2
2	ПР №6 Второй закон термодинамики. Круговые процессы	2
3	ПР №7 Электростатика	2
3	ПР №8 Постоянный электрический ток	2
3	ПР №9 Магнитное поле. Электромагнитная индукция	2
Итого за 2 семестр		18
3 семестр		
4	ПР №1 Колебания	2
4	ПР №2 Акустика	2
5	ПР №3 Фотометрия. Геометрическая оптика	2
5	ПР №4 Интерференция света. Дифракция света	2
5	ПР №5 Дисперсия. Поглощение света. Рассеяние света	2
6	ПР №6 Тепловое излучение	2
7	ПР №7 Эффект Комптона. Фотоэффект. Давление света.	2
Итого за 3 семестр		14
Итого по дисциплине		32

5.5 Лабораторный практикум

№ раздела, темы дисциплины	Наименование лабораторных работ	Трудоёмкость (часы)
2 семестр		
1	ЛР №1 Теория погрешностей, Простейшие измерения	4

№ раздела, темы дисциплины	Наименование лабораторных работ	Трудоёмкость (часы)
1	ЛР №2 Измерение ускорения свободного падения с помощью прибора Атвуда	2
2	ЛР №3 Определение отношения теплоемкости газа при постоянном давлении к теплоемкости газа при постоянном объеме по методу Клемана-Дезорма	2
2	ЛР №4 Изучение свойств поверхности жидкости	2
2	ЛР №5 Определение динамической вязкости авиационного масла	2
3	ЛР №6 Измерение удельного сопротивления проводника	2
3	ЛР №7 Определение горизонтальной составляющей напряженности магнитного поля Земли	2
3	ЛР №8 Определение удельного заряда электрона	2
Итого за 2 семестр		18
3 семестр		
4	ЛР №1 Исследование свойств стоячих электромагнитных волн	2
5	ЛР №2 Определение фокусного расстояния линзы	2
5	ЛР №3 Моделирование оптических приборов и определение их увеличения	2
5	ЛР №4 Определение постоянной дифракционной решетки	2
5	ЛР №5 Определение радиуса кривизны с помощью колец Ньютона	2
5	ЛР №6 Исследование свойств поляризованного света	2
5	ЛР №7 Исследование дисперсии оптического стекла	2
Итого за 3 семестр		14
Итого по дисциплине		32

5.6 Самостоятельная работа

№ раздела дисциплины	Виды самостоятельной работы	Трудоемкость (часы)
2 семестр		
1	Изучение теоретического материала. Кинематика поступательного движения. Плоское движение. Секторная скорость. Законы Ньютона. Закон изменения полного импульса. Центр масс. Движение тела переменной массы. Формула Циолковского [1,2].	2
1	Изучение теоретического материала. Работа. Кинетическая энергия поступательного и вращательного движения. Теорема Кёнига. Потенциальная сила и потенциальная энергия. Закон изменения полной механической энергии [1,2].	2
1	Изучение теоретического материала. Законы сохранения в механике. Связь законов сохранения с симметриями пространства и времени [1,2].	2
1	Изучение теоретического материала. Кинематика вращательного движения. Момент импульса. Момент силы. Момент инерции. Теорема Гюйгенса-Штейнера Закон изменения момента импульса. Гироскопы [1,2].	2
1	Изучение теоретического материала. Неинерциальные системы отсчета. Силы инерции. Сила Кориолиса [1,2].	2
1	Изучение теоретического материала. Движение в поле центральной силы. Законы Кеплера. Космические скорости [1,2].	2
1	Самостоятельная работа по решению задач [7].	10
1	Подготовка к лабораторным работам [1,2,9].	2
2	Изучение теоретического материала. Распределение Максвелла. Распределение Больцмана. Средняя длина свободного пробега молекул идеального газа. Явления переноса. Вязкость газов. Теплопроводность газов. Диффузия в газах [1,4].	2
2	Изучение теоретического материала. Энтропия. Свойство энтропии. Энтропия и вероятность. Теорема Нернста. Второе начало термодинамики. Круговые процессы. Цикл Карно. Неравенство Клазиуса [1,4].	2
2	Изучение теоретического материала. Реальные газы. Уравнение Ван-дер-Ваальса. Экспериментальные изотермы. Пересыщенный пар и перегретая жидкость [1,4].	2
2	Изучение теоретического материала. Строение жидкостей. Поверхностное натяжение. Давление под изогнутой поверхностью жидкости. Явления на границе жидкости и твердого тела. Капиллярные явления [1,4].	2

№ раздела дисциплины	Виды самостоятельной работы	Трудоемкость (часы)
2	Самостоятельная работа по решению задач [7].	9
2	Подготовка к лабораторным работам [10].	3
3	Изучение теоретического материала. Теорема Остроградского-Гаусса (О-Г). Применение теоремы О-Г к расчету электростатических полей в вакууме [1,3].	2
3	Изучение теоретического материала. Электростатическое поле в диэлектрической среде. Поляризация диэлектриков [1,3].	2
3	Изучение теоретического материала. Электрическая емкость плоского и сферического конденсаторов. Энергия электрического поля. Объемная плотность энергии электрического поля [1,3].	2
3	Изучение теоретического материала. Электронная теория проводимости [1,3].	2
3	Изучение теоретического материала. Закон Био-Савара-Лапласа. Закон полного тока для магнитного поля. Примеры простейших магнитных полей проводников с током [1,3].	2
3	Изучение теоретического материала. Магнитные моменты атомов. Намагниченность. Диа-, парамагнетики. Закон полного тока для магнитного поля в веществе. Ферромагнетики [1,3].	2
3	Изучение теоретического материала Явление электромагнитной индукции. Закон Фарадея. Правило Ленца. Природа ЭДС индукции. Самоиндукция [1,3].	2
3	Самостоятельная работа по решению задач [7].	11
3	Подготовка к лабораторным работам [10].	3
Итого за 2 семестр		72
3 семестр		
4	Изучение теоретического материала Сложение гармонических колебаний. Свободные затухающие колебания осциллятора с потерями [1,2,3].	1
4	Вынужденные колебания. Векторная диаграмма [1,2,3].	1
4	Самостоятельная работа по решению задач [7].	6
4	Подготовка к лабораторным работам [9,11].	1
4	Уравнения Максвелла. Доказательство (теоретическое) существования ЭМ волн. Интенсивность ЭМ волны [1,3].	2
5	Интерференция многих волн. Векторная диаграмма. Интенсивность света при дифракции Фраунгофера на щели. Интенсивность света от дифракционной решетки. «Нулевые» максимумы [1,5].	1

№ раздела дисциплины	Виды самостоятельной работы	Трудоемкость (часы)
5	Самостоятельная работа по решению задач [7].	8
5	Подготовка к лабораторным работам [12].	12
6	Изучение теоретического материала Тепловое излучение. Закон Кирхгофа. Законы Стефана—Больцмана и Вина [1,6].	1
6	Формула Планка. Оптическая пирометрия [1,6].	2
6	Изучение теоретического материала Волны де Бройля. Опыт Девиссона-Джермера. Соотношение неопределенностей Гейзенберга [1,6].	3
6	Волновая функция. Уравнение Шредингера [1,6].	2
6	Самостоятельная работа по решению задач [7].	4
6	Подготовка к лабораторным работам	-
7	Изучение теоретического материала Линейчатый спектр атома водорода. Формула Бальмера. Модели атома. Постулаты Бора. Опыт Франка-Герца [1,6].	2
7	Спектр излучения атома водорода по Бору. Атом водорода в квантовой механике. Поглощение. Спонтанное и вынужденное излучение. Квантовые генераторы [1,6].	2
7	Изучение теоретического материала Состав атомного ядра. Виды и законы радиоактивного излучения. Ядерные реакции. Классификация элементарных частиц. Нейтрино. Бозон Хиггса [1,6].	2
7	Самостоятельная работа по решению задач [7].	2
Итого за 3 семестр		52
Итого по дисциплине		78

5.7 Курсовые работы

Курсовые работы учебным планом не предусмотрены.

6 Учебно-методическое и информационное обеспечение дисциплины

а) основная литература:

1. Трофимова, Т. И. **Курс физики** [Текст]: учеб. пособие / Т.И.Трофимова. - М.:Академия, 2008.-558 с.- ISBN 978-5-7695-5782-8. Количество экземпляров 50.

2. Бондарев, Б. В.**Курс общей физики**. В 3-х т. Книга 1: Механика. Учебник для бакалавров [Электронный ресурс]: учебник для вузов / Б. В. Бондарев, Н. П. Калашников, Г. Г. Спиринов — Электрон. дан. — М.: Юрайт,

2019 — 353с. — ISBN: 978-5-9916-1753-6, 978-5-9916-2321-6— Режим доступа: <https://biblio-online.ru/viewer/C58E0BBB-C423-4759-959F-9274A38E679B/kurs-obschey-fiziki-v-3-kn-kniga-1-mehanika> — Загл. с экрана.

свободный (дата обращения 25.04.2021.).

3. Бондарев, Б.В. **Курс общей физики.** В 3-х т. Книга 2: Электромагнетизм, оптика, квантовая физика. Учебник для бакалавров [Электронный ресурс]: учебник для вузов / Б. В. Бондарев, Н. П. Калашников, Г. Г. Спири́н — Электрон. дан. — М.: Юрайт, 2019 — 353с. — ISBN: 978-5-9916-1754-3, 978-5-9916-2321-6— Режим доступа: <https://biblio-online.ru/book/E7ADA2F4-0719-4286-99F9-C06E830661D3/kurs-obschey-fiziki-v-3-kn-kniga-2-elektromagnetizm-optika-kvantovaya-fizika> — Загл. с экрана.

свободный (дата обращения 25.04.2021.).

б) дополнительная литература:

4. Бондарев, Б. В. **Курс общей физики.** В 3-х т. Книга 3: Термодинамика, статистическая физика, строение вещества. Учебник для бакалавров [Электронный ресурс]: учебник для вузов / Б. В. Бондарев, Н. П. Калашников, Г. Г. Спири́н — Электрон. дан. — М.: Юрайт, 2019 — 353с. — ISBN: 978-5-9916-1755-0, 978-5-9916-2321-6 — Режим доступа: <https://biblio-online.ru/viewer/96A19159-3AD2-4326-A052-BBE0D3BBF93F/kurs-obschey-fiziki-v-3-kn-kniga-3-termodinamika-statisticheskaya-fizika-stroenie-veschestva> — Загл. с экрана, свободный (дата обращения 27.04.2021).

5. Волькенштейн, В.С. **Сборник задач по общему курсу физики** [Текст]/В.С.Волькенштейн- С-Пб: Специальная литература, 1997. — 328 с. — ISBN 5-86457-033-8. Количество экземпляров 80.

6. Оселдчик, Ю.С. **Физика. Модульный курс** (для технических вузов). Учебное пособие для бакалавров [Электронный ресурс]: учебник для вузов / Ю.С. Оселдчик, П.И. Самойленко, Т.Н.Точилина— Электрон. дан. — М.: Юрайт, 2019 — 526с. — ISBN: 978-5-9916-2719-1, 978-5-9692-1453-8 — Режим доступа:<https://biblio-online.ru/book/981CBDA0-1563-4065-9207-D060AAECABE8/fizika-modulnyy-kurs-dlya-tehnicheskikh-vuzov> — Загл. с экрана, свободный (дата обращения 27.04.2021).

в) перечень ресурсов информационно-телекоммуникационной сети «Интернет»:

7. **Matematikam.ru** – онлайн калькуляторы по математике [Электронный ресурс]/Режим доступа: <http://matematikam.ru> свободный (дата обращения 27.04.2021).

8. **y(x).ru** – построение графиков функций онлайн [Электронный ресурс]/Режим доступа: <http://www.yotx.ru>, свободный (дата обращения 27.04.2021).

г) программное обеспечение (лицензионное и свободно распространяемое), базы данных, информационно-справочные и поисковые системы:

9. **Электронно-библиотечная система издательства «Лань»** [Электронный ресурс] — Режим доступа: <http://e.lanbook.com/>, свободный (дата обращения: 27.04.2021).

10. **Электронно-библиотечная система издательства «Юрайт»** [Электронный ресурс] — Режим доступа: <https://biblio-online.ru>, свободный (дата обращения: 27.04.2021).
11. **MATCAD-14** [Программное обеспечение] - Лицензия №2566427 от 27 декабря 2010 года.
12. **Единое окно доступа к образовательным ресурсам** [Электронный ресурс]. – Режим доступа: <http://window.edu.ru>, свободный (дата обращения: 27.04.2021).
13. **Консультант Плюс** [Электронный ресурс]: официальный сайт компании Консультант Плюс. — Режим доступа: <http://www.consultant.ru/>, свободный (дата обращения: 27.04.2021).
14. **Электронная библиотека научных публикаций «eLIBRARY.RU»** [Электронный ресурс] — Режим доступа: <http://elibrary.ru/>, свободный (дата обращения: 27.04.2021).

7 Материально-техническое обеспечение дисциплины

Профессорско-преподавательский состав кафедры №5 проводит со студентами очной и заочной форм обучения лекционные, практические и лабораторные занятия по физике. Поточная аудитория 430 оснащена стационарным компьютерным проектором, кроме того, на кафедре №5 имеется переносной компьютерный проектор и экран, что дает возможность преподавателям проводить лекционные занятия с использованием подготовленных ими презентаций по изучаемым темам. Лабораторные работы проводятся в лабораториях кафедры №5, оснащенных соответствующим лабораторным оборудованием. Наименование лабораторий с перечнем основного оборудования:

Лаборатория электричества и магнетизма (помещение № 422) оснащена приборами для проведения следующих лабораторных работ:

- Изучение кинематики и динамики движения тел по наклонной плоскости.
- Определение емкости конденсатора.
- Измерение удельного сопротивления резистивного проводника.
- Исследование синусоидальной ЭДС индукции.
- Определение ширины запрещенной зоны полупроводника.
- Определение удельного заряда электрона методом отклонения электронного пучка в магнитном поле.
- Изучение эффекта Холла.
- Определение горизонтальной составляющей Земного магнитного поля при помощи тангенс - гальванометра.
- Изучение сантиметровых электромагнитных волн.

Лаборатория оптики (помещение № 433) оснащена приборами для проведения лабораторных работ:

- Определение коэффициента затухания и добротности колебательной системы физического маятника.

- Исследование и использование тонких линз.
 - Определение длины волны света с помощью колец Ньютона.
 - Определение постоянной дифракционной решетки.
 - Исследование свойств поляризованного света.
 - Определение концентрации раствора сахара с помощью поляриметра.
 - Определение энергии диссоциации двуххромовоокислого калия.
 - Исследование дисперсии оптического стекла.
 - Определение характеристик дифракционной решетки.
 - Определение расстояния между щелями в опыте Юнга.
 - Исследование закона Малюса и прохождения поляризованного света через фазовую пластинку.
 - Моделирование оптических приборов и определение их увеличения.
- Лаборатория механики и молекулярной физики (помещение № 435) оснащена приборами для проведения лабораторных работ:
- Теория погрешностей.
 - Простейшие измерения.
 - Измерение ускорения свободного падения с помощью прибора Атвуда.
 - Определение коэффициента восстановления и времени соударения шаров.
 - Определение положения центра масс физического маятника.
 - Определение момента инерции физического маятника.
 - Изучение основного закона динамики вращательного движения (маятник Обербека).
 - Газовые законы.
 - Определение отношения теплоемкости газа при постоянном давлении к теплоемкости газа при постоянном объеме по методу Клемана и Дезорма.
 - Изучение тепловых процессов в изолированной системе.
 - Изучение свойств поверхности жидкости. Определение коэффициента внутреннего трения по методу Стокса.

8 Образовательные и информационные технологии

Лекция составляет основу теоретического обучения в рамках дисциплины и направлена на систематизированное изложение накопленных и актуальных научных знаний. Лекция имеет целью раскрыть текущее состояние и обозначить перспективы прогресса в области изучаемой дисциплины. На лекции концентрируется внимание обучающихся на наиболее сложных и узловых вопросах, стимулируется их активная познавательная деятельность.

Ведущим методом в лекции выступает устное изложение учебного материала, который сопровождается одновременной демонстрацией слайдов, при необходимости привлекаются открытые Интернет-ресурсы, а также демонстрационные и наглядно-иллюстрационные материалы и практические примеры. Цель практических занятий – закрепить теоретические знания,

полученные обучающимися на лекциях и в результате самостоятельного изучения соответствующих тем, а также приобрести практические навыки. Проводимые в рамках практического занятия устные опросы и контрольная работа (в форме тестирования) имеют профессиональную направленность.

Практические занятия по дисциплине являются составляющими практической подготовки обучающихся, так как предусматривают их участие в выполнении отдельных элементов работ, связанных с будущей профессиональной деятельностью.

Также в качестве элемента практической подготовки применяется разбор конкретной ситуации, используемый на практических занятиях и заключающийся в постановке перед студентами расчётных и ситуационных задач с целью достижения планируемых результатов в части умения анализировать процессы, протекающие в механизмах, агрегатах, системах и конструктивных элементах воздушных судов и авиационных двигателей с точки зрения диагностических признаков, владения методами организации проведения измерений и инструментального контроля при осуществлении диагностирования и определения технического состояния авиационной техники.

Лабораторная работа - это метод обучения, при котором студенты под руководством преподавателя и по заранее намеченному плану продельывают опыты или выполняют определенные практические задания и в процессе их воспринимают и осмысливают новый учебный материал.

Самостоятельная работа студента является составной частью учебной работы. Ее основной целью является формирование навыка самостоятельного приобретения знаний по некоторым не особо сложным вопросам теоретического курса, закрепление и углубление полученных знаний, самостоятельная работа со справочниками, периодическими изданиями и научно-популярной литературой, в том числе находящимися в глобальных компьютерных сетях. Самостоятельная работа подразумевает выполнение учебных заданий.

9 Фонд оценочных средств для проведения текущего контроля успеваемости и промежуточной аттестации по итогам освоения дисциплины

Уровень и качество знаний обучающихся оценивается по результатам текущего контроля успеваемости и промежуточной аттестации по итогам освоения дисциплины в виде зачета с оценкой (во втором семестре) и экзамена (в третьем семестре).

Текущий контроль включает в себя входной контроль, устный опрос, защиту выполненного практического задания и защиту лабораторной работы.

Входной контроль предназначен для выявления уровня подготовки обучающихся, необходимых для освоения дисциплины.

Устный опрос проводится с целью контроля знаний теоретического материала, излагаемого на лекции и усвоенного в результате самостоятельной

работы.

Защита выполненного практического задания проводится для проверки способности использовать законы физики при анализе условия и решения задачи, а также умения применять математические методы для описания физических явлений.

Защита лабораторной работы проводится для выявления сформированности навыков эксплуатации приборов и оборудования и проведения физического эксперимента, а также умения проводить статистическую обработку результатов эксперимента.

Расчетные задачи, ситуационные задачи, выполнение лабораторных работ носят практико-ориентированный характер, используются в рамках практической подготовки с целью оценки формирования, закрепления, развития практических навыков.

Промежуточная аттестация по итогам освоения дисциплины проводится в виде экзамена во 2-м и 3-м семестрах.

Экзамен позволяет оценить уровень освоения компетенций за весь период изучения дисциплины. Билет включает теоретический вопрос и два практических задания, представляющих собой расчётную и ситуационную задачу. К моменту сдачи экзамена должны быть благополучно пройдены предыдущие формы контроля.

Методика формирования результирующей оценки в обязательном порядке учитывает активность студентов на занятиях, посещаемость занятий, оценки за защиту лабораторных (практических) работ, выполнение самостоятельных заданий.

9.1. Балльно-рейтинговая система оценки текущего контроля успеваемости и знаний и промежуточной аттестации студентов

Балльно-рейтинговая оценка текущего контроля успеваемости и знаний студентов не применяется.

9.2 Методические рекомендации по проведению процедуры оценивания знаний, умений и навыков и (или) опыта деятельности, характеризующих этапы формирования компетенций.

Устный опрос оценивается следующим образом: развернутый ответ обучающегося должен представлять собой связный, логически последовательный ответ на вопрос. Критерии оценивания:

- 1) полнота и правильность ответа;
- 2) степень осознанности, понимания изученного;
- 3) языковое оформление ответа.

Оценка «отлично» ставится, если обучающийся полно излагает материал (отвечает на вопрос), дает правильное определение основных понятий; обнаруживает понимание материала, может обосновать свои суждения, применить знания на практике, привести необходимые примеры не только из учебника, но и самостоятельно составленные; излагает материал последовательно и правильно с точки зрения норм литературного языка.

Оценка «хорошо» ставится, если обучающийся дает ответ, удовлетворяющий тем же требованиям, что и для оценки «отлично», но допускает 1–2 ошибки, которые сам же исправляет, и 1–2 недочета в последовательности и языковом оформлении излагаемого.

Оценка «удовлетворительно» ставится, если обучающийся обнаруживает знание и понимание основных положений данной темы, но излагает материал неполно и допускает неточности в определении понятий или формулировке; не умеет достаточно глубоко и доказательно обосновать свои суждения и привести свои примеры; излагает материал непоследовательно и допускает ошибки в языковом оформлении излагаемого.

Оценка «неудовлетворительно» ставится, если обучающийся обнаруживает незнание большей части соответствующего вопроса, допускает ошибки в формулировке определений и правил, искажает их смысл, беспорядочно и неуверенно излагает материал.

9.3 Темы курсовых работ (проектов) по дисциплине

Курсовые работы учебным планом не предусмотрены.

9.4 Контрольные вопросы для проведения входного контроля остаточных знаний по обеспечивающим дисциплинам

Математика

1. Линейное пространство. Линейные операторы.
2. Геометрические векторы. Сумма векторов. Умножения вектора на число.
3. Скалярное, векторное, смешанное произведения векторов. Двойное векторное произведение.
4. Система линейных уравнений (метод Крамера, метод обратной матрицы, метод Гаусса)
5. Предел функции. Бесконечно малые функции.
6. Дифференцируемые функции. Производная функции.
7. Неопределенный интеграл. Методы интегрирования. Определенный интеграл (определение, формула Ньютона-Лейбница).
8. Функции многих переменных. Частные производные.

9.5 Описание показателей и критериев оценивания компетенций на различных этапах их формирования, описание шкал оценивания

Компетенции	Показатели оценивания (индикаторы достижения) компетенций	Критерии оценивания
І этап		
ОПК-10 ОПК-11	$IД_{ОПК\ 10}^1$ $IД_{ОПК\ 10}^2$ $IД_{ОПК\ 11}^1$ $IД_{ОПК\ 11}^2$	<p>Знает:</p> <ul style="list-style-type: none"> - основные понятия, законы и модели механики, электричества и магнетизма, колебаний и волн, квантовой физики, молекулярной физики и термодинамики, оптики, атомной и ядерной физики ($IД_{ОПК\ 10}^1, IД_{ОПК\ 11}^1$); - методы теоретического и экспериментального исследования в физике ($IД_{ОПК\ 10}^1, IД_{ОПК\ 11}^1$); - математические модели простейших систем и процессов в естествознании и технике ($IД_{ОПК\ 10}^1, IД_{ОПК\ 11}^1$). <p>Умеет:</p> <ul style="list-style-type: none"> - решать типовые задачи по основным разделам курса физики, используя методы математического анализа ($IД_{ОПК\ 11}^1, IД_{ОПК\ 11}^2$); - употреблять математическую символику для выражения количественных и качественных отношений объектов ($IД_{ОПК\ 10}^1, IД_{ОПК\ 10}^2$).
ІІ этап		
ОПК-10 ОПК-11	$IД_{ОПК\ 10}^1$ $IД_{ОПК\ 10}^2$ $IД_{ОПК\ 11}^1$ $IД_{ОПК\ 11}^2$	<p>Умеет:</p> <ul style="list-style-type: none"> - использовать физические законы при анализе и решении проблем профессиональной деятельности ($IД_{ОПК\ 10}^1, IД_{ОПК\ 11}^1, IД_{ОПК\ 10}^2, IД_{ОПК\ 11}^2$); - применять математические методы при решении типовых профессиональных задач ($IД_{ОПК\ 10}^1, IД_{ОПК\ 11}^1, IД_{ОПК\ 10}^2, IД_{ОПК\ 11}^2$). <p>Владеет:</p> <ul style="list-style-type: none"> - методами построения математической модели типовых профессиональных задач и содержательной интерпретации полученных результатов ($IД_{ОПК\ 10}^1, IД_{ОПК\ 11}^1, IД_{ОПК\ 10}^2, IД_{ОПК\ 11}^2$). - методами проведения физических измерений, методами корректной оценки погрешностей при проведении физического эксперимента ($IД_{ОПК\ 10}^1, IД_{ОПК\ 11}^1, IД_{ОПК\ 10}^2, IД_{ОПК\ 11}^2$).

9.6 Типовые контрольные задания для проведения текущего контроля и промежуточной аттестации по итогам освоения дисциплины

9.6.1 Типовые расчетные задачи для проведения текущего контроля

Раздел 1. Механика

Блок 1

1. Первую половину своего пути автомобиль двигался со скоростью $v_1 = 80$ км/ч, а вторую половину пути - со скоростью $v_2 = 40$ км/ч. Какова средняя скорость v_{cp} движения автомобиля?
2. Самолет летит относительно воздуха со скоростью $v_0 = 800$ км/ч. Ветер дует с запада на восток со скоростью $u = 15$ м/с. С какой скоростью v самолет будет двигаться относительно земли и под каким углом? к меридиану надо держать курс, чтобы перемещение было: а) на юг; б) на север; в) на запад; г) на восток?
3. Камень бросили вертикально вверх на высоту $h_0 = 10$ м. Через какое время t он упадет на землю? На какую высоту h поднимется камень, если начальную скорость камня увеличить вдвое?
4. Точка движется по окружности радиусом $R = 2$ см. Зависимость пути от времени дается уравнением $s = Ct^3$, где $C = 0,1$ см/с³. Найти нормальное a_n и тангенциальное a_t ускорения точки в момент, когда линейная скорость точки $v = 0,3$ м/с.

Блок 2

1. Невесомый блок укреплен в вершине наклонной плоскости, составляющей с горизонтом угол $\alpha = 30^\circ$. Гири 1 и 2 одинаковой массы $m_1 = m_2 = 1$ кг соединены нитью и перекинута через блок. Найти ускорение a , с которым движутся гири, и силу натяжения нити T . Коэффициент трения гири 2 о наклонную плоскость $k = 0,1$.
2. Тело скользит по наклонной плоскости, составляющей с горизонтом угол $\alpha = 45^\circ$. Зависимость пройденного пути s от времени t дается уравнением $s = Ct^2$, где $C = 1,73$ м/с². Найти коэффициент трения k тела о плоскость.
3. Тело лежит на наклонной плоскости, составляющей с горизонтом угол $\alpha = 60^\circ$. При каком предельном коэффициенте трения k тело начнет скользить по наклонной плоскости? С каким ускорением a будет скользить тело по плоскости, если коэффициент трения $k = 0,03$? Какое время t потребуется для прохождения при этих условиях пути $s = 100$ м? Какую скорость v будет иметь тело в конце пути?

4. На автомобиль массой $M = 1$ т во время движения действует сила трения $F_{\text{тр}}$, равная 0,1 действующей на него силе тяжести mg . Какую массу m бензина расходует двигатель автомобиля на то, чтобы на пути $s = 0,5$ км увеличить скорость от $v_1 = 10$ км/ч до $v_2 = 40$ км/ч? К.п.д. двигателя $\eta = 0,2$, удельная теплота сгорания бензина $q = 46$ МДж / кг.

Блок 2

1. Человек, стоящий на неподвижной тележке, бросает в горизонтальном направлении камень массой $m = 2$ кг. Тележка с человеком покатилась назад, и в первый момент бросания ее скорость была $v = 0,1$ м/с. Масса тележки с человеком $M = 100$ кг. Найти кинетическую энергию W_k брошенного камня через время $t = 0,5$ с после начала движения.
2. Движущееся тело массой m_1 , ударяется о неподвижное тело массой m_2 . Считая удар неупругим и центральным, найти, какая часть кинетической энергии W_{k1} первого тела переходит при ударе в тепло. Задачу решить сначала в общем виде, а затем рассмотреть случаи: а) $m_1 = m_2$; б) $m_1 = 9m_2$.
3. Деревянным молотком, масса которого $m_1 = 0,5$ кг, ударяют о неподвижную стенку. Скорость молотка в момент удара $v_1 = 1$ м/с. Считая коэффициент восстановления при ударе молотка о стенку $k = 0,5$, найти количество теплоты Q , выделившееся при ударе. (Коэффициентом восстановления материала тела называют отношение скорости после удара к его скорости до удара.)
4. Из орудия массой $m_1 = 5$ т вылетает снаряд массой $m_2 = 100$ кг. Кинетическая энергия снаряда при вылете $W_{k2} = 7,5$ МДж. Какую кинетическую энергию W_{k1} получает орудие вследствие отдачи?

Блок 4

1. Гирька, привязанная к нити длиной $l = 30$ см, описывает в горизонтальной плоскости окружность радиусом $R = 15$ см. С какой частотой n вращается гирька?
2. Маховик, момент инерции которого $J = 63,6$ кг•м² вращается с угловой скоростью $\omega = 31,4$ рад/с. Найти момент сил торможения M , под действием которого маховик
3. Мальчик катит обруч по горизонтальной дороге со скоростью $v = 7,2$ км/ч. На какое расстояние s может вкатиться обруч на горку за счет его кинетической энергии? Уклон горки равен 10 м на каждые 100 м пути.
4. Медный шар радиусом $R = 10$ см вращается с частотой $n = 2$ об/с вокруг оси, проходящей через его центр. Какую работу A надо совершить, чтобы увеличить угловую скорость ω вращения шара вдвое?

Раздел 2. Молекулярная физика и термодинамика

Блок 1

1. Какую массу m углекислого газа можно нагреть при $p = \text{const}$ от температуры $t_1 = 20^\circ \text{C}$ до $t_2 = 100^\circ \text{C}$ количеством теплоты $Q = 222 \text{ Дж}$? На сколько при этом изменится кинетическая энергия одной молекулы?
2. Для нагревания некоторой массы газа на $\Delta t_1 = 50^\circ \text{C}$ при $p = \text{const}$ необходимо затратить количество теплоты $Q_1 = 670 \text{ Дж}$. Если эту же массу газа охладить на $\Delta t_2 = 100^\circ \text{C}$ при $V = \text{const}$, то выделяется количество теплоты $Q_2 = 1005 \text{ Дж}$. Какое число степеней свободы i имеют молекулы этого газа?
3. На какой высоте h давление воздуха составляет 75% от давления на уровне моря? Температуру воздуха считать постоянной и равной $t = 0^\circ \text{C}$.
4. Найти плотность ρ воздуха: а) у поверхности Земли; б) на высоте $h = 4 \text{ км}$ от поверхности Земли. Температуру воздуха считать постоянной и равной $t = 0^\circ \text{C}$. Давление воздуха у поверхности Земли $p_0 = 100 \text{ кПа}$.

Блок 2

1. Найти среднюю длину свободного пробега $\langle \lambda \rangle$ молекул углекислого газа при температуре $t = 100^\circ \text{C}$ и давлении $p = 13,3 \text{ Па}$. Диаметр молекул углекислого газа $d = 0,32 \text{ нм}$.
2. Найти среднее число столкновений $\langle \nu \rangle$ в единицу времени молекул углекислого газа при температуре $t = 100^\circ \text{C}$, если средняя длина свободного пробега $\langle \lambda \rangle = 870 \text{ мкм}$.
3. Во сколько раз уменьшится число столкновений $\langle \nu \rangle$ в единицу времени молекул двухатомного газа, если объем газа адиабатически увеличить в 2 раза?
4. Какой наибольшей скорости v может достичь дождевая капля диаметром $D = 0,3 \text{ мм}$? Диаметр молекул воздуха $d = 0,3 \text{ нм}$. Температура воздуха $t = 0^\circ \text{C}$. Считать, что для дождевой капли справедлив закон Стокса.

Блок 3

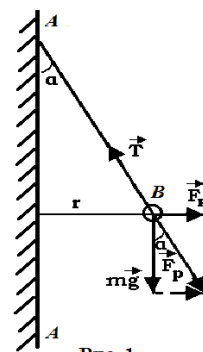
1. Масса $m = 10,5 \text{ г}$ азота изотермически расширяется от объема $V_1 = 2 \text{ л}$ до объема $V_2 = 5 \text{ л}$. Найти изменение ΔS энтропии при этом процессе.
2. Найти изменение ΔS энтропии при переходе массы $m = 8 \text{ г}$ кислорода от объема $V_1 = 10 \text{ л}$ при температуре $t_1 = 80^\circ \text{C}$ к объему $V_2 = 40 \text{ л}$ при температуре $t_2 = 300^\circ \text{C}$.
3. Найти изменение ΔS энтропии при превращении массы $m = 10 \text{ г}$ льда ($t = -20^\circ \text{C}$) в пар ($t_n = 100^\circ \text{C}$).
4. Количество $\nu = 0,5 \text{ кмоль}$ некоторого газа занимает объем $V_1 = 1 \text{ м}^3$. При расширении газа до объема $V_2 = 1,2 \text{ м}^3$ была совершена работа против сил взаимодействия молекул $A = 5,684 \text{ кДж}$. Найти постоянную a , входящую в уравнение Ван-дер-Ваальса.

Раздел 3. Электродинамика

Блок 1

1. Какой минимальный заряд q нужно закрепить в нижней точке сферической полости радиуса R , чтобы в поле тяжести небольшой шарик массы m и заряда Q находился в верхней точке полости в положении устойчивого равновесия?

2. На рис. 1 AA — заряженная бесконечная плоскость и B — одноименно заряженный шарик с массой $m = 0,4$ мг и зарядом $q = 667$ пКл. Сила натяжения нити, на которой висит шарик, $T = 0,49$ мН. Найти поверхностную плотность заряда σ на плоскости AA .



3. Найти напряженность поля и потенциал во всем пространстве тонкой сферы радиуса R , равномерно заряженной до заряда q .
4. Шар радиусом R равномерно заряжен с объемной плотностью заряда ρ . Вычислите распределение потенциала внутри и вне шара. За нулевой уровень отсчета потенциала принять бесконечность.

Блок 2

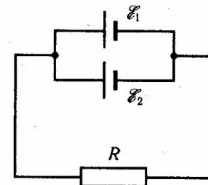
1. Бесконечная плоскость заряжена с поверхностной плотностью σ . Найти напряженность и потенциал электрического поля на расстоянии r от плоскости.
2. Бесконечно длинный тонкий проводник равномерно заряжен с линейной плотностью 10^{-9} Кл/см. Найти напряжённость и потенциал электрического поля на расстоянии $r=10$ см от провода.
3. Бесконечная цилиндрическая поверхность с радиусом R заряжена с поверхностной плотностью σ . Найти напряженность и потенциал электрического поля в точках $r < R$ и $r > R$.

Блок 3

1. Найти емкость плоского конденсатора.
2. Найти емкость цилиндрического конденсатора.
3. Найти емкость сферического конденсатора.
4. Найти емкость уединенного проводящего шара.

Блок 4

1. Электрон, пройдя в плоском конденсаторе путь от одной пластины до другой, приобретает скорость $v = 106$ м/с. Расстояние между пластинами $d = 5,3$ мм. Найти разность потенциалов U между пластинами, напряженность E электрического поля внутри конденсатора и поверхностную плотность заряда σ на пластинах.
2. Два параллельно соединенных элемента с одинаковыми ЭДС $E_1 = E_2 = 2$ В и внутренними сопротивлениями $r_1 = 1$ Ом и $r_2 = 1,5$ Ом, замкнуты на внешнее сопротивление $R = 1,4$ Ом. Найти ток в каждом из элементов и во всей цепи.



3. Найти индукцию магнитного поля на расстоянии b от бесконечного прямолинейного проводника с током I .
4. Из проволоки длиной $\ell = 1$ м сделана квадратная рамка. По рамке течет ток $I = 10$ А. Найти напряженность H магнитного поля в центре рамки.

Блок 5

1. Найти напряженность магнитного поля внутри тороида с током I . Число витков в тороиде N .
2. В однородном магнитном поле с индукцией $B = 0,5$ Тл движется равномерно проводник длиной $\ell = 10$ см. По проводнику течет ток $I = 2$ А. Скорость движения проводника $v = 20$ см/с и направлена перпендикулярно к направлению магнитного поля. Найти работу A перемещения проводника за время $t = 10$ с и мощность P , затраченную на это перемещение. Найти индуцированную в проводнике ЭДС.
3. Найти индуктивность тонкого соленоида. Известны: n – число витков на единицу длины соленоида, V – объем соленоида.
4. Найти плотность энергии магнитного поля внутри соленоида. Считать соленоид тонким и бесконечно длинным, а поле внутри однородным.

Раздел 4. Физика колебаний и волн

Блок 1

1. Написать уравнение гармонического колебательного движения с амплитудой $A = 5$ см, если за время $t = 1$ мин совершается 150 колебаний и начальная фаза колебаний $\varphi = \pi/4$. Начертить график этого движения.
2. Амплитуда гармонического колебания $A = 5$ см, период $T = 4$ с. Найти максимальную скорость v_{\max} колеблющейся точки и ее максимальное ускорение a_{\max} .

3. Дифференциальное уравнение вынужденных колебаний пружинного маятника, происходящих вдоль оси ОХ, имеет вид

$$\frac{d^2x}{dt^2} + 2\beta \frac{dx}{dt} + \omega_0^2 x = \frac{1}{m} F_x(t).$$

На маятник действует периодическая сила $F_x = F_0 \cos \Omega t$ с циклической частотой Ω . Найти амплитуду A и начальную фазу φ_0 установившихся вынужденных колебаний маятника

$$x = A \cos(\Omega t + \varphi_0).$$

Блок 2

1. При помощи эхолота измерялась глубина моря. Какова была глубина моря, если промежуток времени между возникновением звука и его приемом оказался равным $t = 2,5 \text{ с}$? Сжимаемость воды $\beta = 4,6 \cdot 10^{-10} \text{ Па}^{-1}$, плотность морской воды $1,03 \cdot 10^3 \text{ кг/м}^3$.
2. Найти скорость c распространения звука в меди.
3. Колебательный контур состоит из конденсатора емкостью $C = 25 \text{ нФ}$ и катушки с индуктивностью $L = 1,015 \text{ Гн}$. Обкладки конденсатора имеют заряд $q = 2,5 \text{ мкКл}$. Написать уравнение (с числовыми коэффициентами) изменения разности потенциалов U на обкладках конденсатора и тока I в цепи. Найти разность потенциалов на обкладках конденсатора и ток в цепи в моменты времени $T/8$, $T/4$ и $T/2$. Построить графики этих зависимостей в пределах одного периода.
4. Колебательный контур состоит из конденсатора емкостью $C = 2,22 \text{ нФ}$ и катушки длиной $l = 20 \text{ см}$ из медной проволоки диаметром $d = 0,5 \text{ мм}$. Найти логарифмический декремент затухания N колебаний.

Раздел 5. Волновая оптика

Блок 1

1. Выпуклое зеркало имеет радиус кривизны $R = 60 \text{ см}$. На расстоянии $a_1 = 10 \text{ см}$ от зеркала поставлен предмет высотой $y_1 = 2 \text{ см}$. Найти положение и высоту y_2 изображения. Дать чертеж.
2. Вогнутое зеркало с диаметром отверстия $d = 40 \text{ см}$ имеет радиус кривизны $R = 60 \text{ см}$. Найти продольную x и поперечную y сферическую абберацию краевых лучей, параллельных главной оптической оси.
3. Линза с фокусным расстоянием $F = 16 \text{ см}$ дает резкое изображение предмета при двух положениях, расстояние между которыми $d = 6 \text{ см}$. Найти расстояние $a_1 + a_2$ от предмета до экрана.
4. В центре квадратной комнаты площадью $S = 25 \text{ м}^2$ висит лампа. На какой высоте h от пола должна находиться лампа, чтобы освещенность в углах комнаты была наибольшей?

Блок 2

1. В опыте Юнга отверстия освещались монохроматическим светом ($\lambda = 600 \text{ нм}$). Расстояние между отверстиями $d = 1 \text{ мм}$, расстояние от отверстий до экрана $L = 3 \text{ м}$. Найти положение трех первых светлых полос.
2. В опыте с зеркалами Френеля расстояние между мнимыми изображениями источника света $d = 0,5 \text{ мм}$, расстояние до экрана $L = 5 \text{ м}$. В зеленом свете получились интерференционные полосы, расположенные на расстоянии $l = 5 \text{ мм}$ друг от друга. Найти длину волны? зеленого света.
3. Установка для получения колец Ньютона освещается монохроматическим светом, падающим по нормали к поверхности пластинки. Наблюдение ведется в отраженном свете. Радиусы двух соседних темных колец равны $r_k = 4,0 \text{ мм}$ и $r_{k+1} = 4,38 \text{ мм}$. Радиус кривизны линзы $R = 6,4 \text{ м}$. Найти порядковые номера колец и длину волны? падающего света.
4. Установка для получения колец Ньютона освещается монохроматическим светом, падающим по нормали к поверхности пластинки. Радиус кривизны линзы $R = 8,6$. Наблюдение ведется в отраженном свете. Измерениями установлено, что радиус четвертого темного кольца (считая центральное темное пятно за нулевое) $r_4 = 4,5 \text{ мм}$. Найти длину волны? падающего света.

Блок 3

1. На мыльную пленку падает белый свет под углом $\alpha = 45^\circ$ к поверхности плёнки. При какой наименьшей толщине h пленки отраженные лучи будут окрашены в желтый цвет ($\lambda = 600 \text{ нм}$)? Показатель преломления мыльной воды $n = 1,33$.
2. Для измерения показателя преломления аммиака в одно из плечей интерферометра Майкельсона поместили откачанную трубку длиной $l = 14 \text{ см}$. Концы трубки закрыли плоскопараллельными стеклами. При заполнении трубки аммиаком интерференционная картина для длины волны $\lambda = 590 \text{ нм}$ сместилась на $k = 180$ полос. Найти показатель преломления n аммиака.
3. Найти радиусы r_k первых пяти зон Френеля, если расстояние от источника света до волновой поверхности $a = 1$ расстояние от волновой поверхности до точки наблюдения $b = 1 \text{ м}$. Длина волны света $\lambda = 500 \text{ нм}$.

Блок 4

1. На щель шириной $a = 20 \text{ мкм}$ падает нормально параллельный пучок монохроматического света ($\lambda = 500 \text{ нм}$). Найти ширину A изображения щели на экране, удаленном от щели на расстояние $l = 1 \text{ м}$. Шириной изображения считать расстояние между первыми дифракционными минимумами, расположенными по обе стороны от главного максимума освещенности.

2. На дифракционную решетку нормально падает пучок света от разрядной трубки, наполненной гелием. На какую линию λ_2 в спектре третьего порядка накладывается красная линия гелия ($\lambda_1 = 670$ нм) спектра второго порядка?
3. Зрительная труба гониометра с дифракционной решеткой поставлена под углом $\lambda = 20^\circ$ к оси коллиматора. При этом в поле зрения трубы видна красная линия спектра гелия ($\lambda_{кр} = 668$ нм). Какова постоянная d дифракционной решетки если под тем же углом видна и синяя линия ($\lambda_c = 447$ нм) более высокого порядка? Наибольший порядок спектра, которым можно наблюдать при помощи решетки, $k = 5$. Свет падает на решетку нормально.

Блок 5

1. Постоянная дифракционной решетки $d = 2$ мкм. Какую разность длин волн $\Delta\lambda$ может разрешить эта решетка в области желтых лучей ($\lambda = 600$ нм) в спектре второго порядка? Ширина решетки $a = 2,5$ см.
2. Найти коэффициент отражения R естественного света, падающего на стекло ($n = 1,54$) под углом i_B полной поляризации. Найти степень поляризации P лучей прошедших в стекло.
3. Найти угол i_B полной поляризации при отражении света от стекла, показатель преломления которого $n = 1,57$.
4. Луч света проходит через жидкость, налитую в стеклянный ($n = 1,5$) сосуд, и отражается от дна. Отраженный луч полностью поляризован при падении его на дно сосуда под углом $i_B = 42^\circ 37'$. Найти показатель преломления жидкости. Под каким углом i должен падать на дно сосуда луч света, идущий в этой жидкости, чтобы наступило полное внутреннее отражение?

Раздел 6. Квантовая физика

Блок 1

1. Какую мощность N излучения имеет Солнце? Излучение Солнца считать близким к излучению абсолютно черного тела. Температура поверхности Солнца $T = 5800$ К.
2. Диаметр вольфрамовой спирали в электрической лампочке $d = 0,3$ мм, длина спирали $l = 5$ см. При включении лампочки в сеть напряжением $U = 127$ В через лампочку течет ток $I = 0,31$ А. Найти температуру T спирали. Считать, что по установлении равновесия все выделяющееся в нити тепло теряется в результате излучения. Отношение энергетических светимостей вольфрама и абсолютно черного тела для данной температуры $k = 0,31$.
3. Температура T абсолютно черного тела изменилась при нагревании от 1000 до 3000 К. Во сколько раз увеличилась при этом его энергетическая светимость R_λ ? На сколько изменилась длина волны, на которую приходится максимум спектральной плотности энергетической

светимости? Во сколько раз увеличилась его максимальная спектральная плотность энергетической светимости $r_?$?

4. Электрон находится в одномерной прямоугольной потенциальной яме с абсолютно непроницаемыми стенками. Найти ширину ямы, если разность энергии между уровнями с $n_1=2$ и $n_2=3$ составляет $\Delta E=0,30$ эВ.

Раздел 7. Атомная физика

Блок 1

1. С какой скоростью v должен двигаться электрон, чтобы его импульс был равен импульсу фотона с длиной волны $\lambda=520$ нм?
2. При высоких энергиях трудно осуществить условия для изменения экспозиционной дозы рентгеновского и гамма-излучений в рентгенах, поэтому допускается применение рентгена как единицы дозы для излучений с энергией квантов до $\lambda=3$ МэВ. До какой предельной длины волны рентгеновского излучения можно употреблять рентген?
3. Рентгеновские лучи с длиной волны $\lambda_0=20$ пм испытывают комптоновское рассеяние под углом $\varphi=90^\circ$. Найти изменение $\Delta\lambda$ длины волны рентгеновских лучей при рассеянии, а также энергию W_e и импульс электрона отдачи.
4. Найти наибольшую длину волны λ_{max} в ультрафиолетовой области спектра водорода. Какую наименьшую скорость v_{min} должны иметь электроны, чтобы при возбуждении атомов водорода ударами электронов появилась эта линия?

9.6.2 Контрольные вопросы для защиты лабораторных работ

Семестр 2

ЛР №1 Теория погрешностей, Простейшие измерения

1. Что называется измерением физической величины?
2. Какое измерение называется прямым?
3. Что называется действительным значением физической величины?
4. Что называется абсолютной, относительной погрешностью измерения? Почему возникают погрешности измерений?
5. Что такое абсолютная погрешность?
6. Что такое относительная погрешность?
7. Что такое доверительный интервал?
8. Как производят округление числового значения среднего арифметического?
9. Сколько значащих цифр оставляется в окончательной записи погрешности результата измерения?
10. Какое измерение называется косвенным?

11. Как определяется погрешность результатов косвенных измерений?

ЛР №2 Измерение ускорения свободного падения с помощью прибора Атвуда

1. Дайте определение закона динамики вращательного движения системы материальной точки.
2. Дайте определение вектора момента силы.
3. Каковы направления вектора углового перемещения, угловой скорости, углового ускорения при вращательном движении?
4. Дайте сравнительную характеристику вращательному и поступательному движениям, их основным кинематическим и динамическим характеристикам, а также уравнениям и способам их решения.
5. При каком условии силы натяжения нити по разные стороны блока можно считать одинаковыми?
6. При каком условии можно пренебречь моментом инерции блока машины Атвуда, не допуская большой ошибки в расчете ускорения тел системы?
7. Назовите возможные причины появления сил трения, которые компенсируются в задании 1?
8. Момент какой силы приложен к блоку машины Атвуда?

ЛР №3 Определение отношения теплоемкости газа при постоянном давлении к теплоемкости газа при постоянном объеме по методу Клемана-Дезорма

1. Что называется теплоемкостью вещества? Удельной теплоемкостью? Молярной теплоемкостью?
2. Что называется идеальным газом?
3. Получите выражение для внутренней энергии произвольной массы идеального газа и объясните из чего складывается внутренняя энергия идеального газа.
4. Чем определяется число степеней свободы системы?
5. Запишите и сформулируйте 1-е начало термодинамики.
6. Выведите выражение для молярных теплоемкостей идеального газа через число степеней свободы.
7. Запишите уравнение газового состояния для изохорного, изобарного, изотермического и адиабатического процессов и 1-е начало термодинамики для этих процессов.

ЛР №4 Изучение свойств поверхности жидкости

1. Приведите силовое и энергетическое определение коэффициента поверхностного натяжения и укажите его размерность.
2. Нарисуйте график зависимости энергии взаимодействия двух молекул от расстояния между ними.
3. Чем обусловлено существование сил поверхностного натяжения?

4. Как коэффициент поверхностного натяжения зависит от температуры? При какой температуре его значение равно нулю?
5. Что называется поверхностной энергией? Почему жидкость стремится уменьшить свою поверхность?
6. Чем обусловлено существование дополнительного давления, создаваемого искривленной поверхностью жидкости?
7. Каким образом в настоящей работе определяется коэффициент поверхностного натяжения?
8. На что затрачивается работа при увеличении поверхности жидкости?
9. Опишите характер взаимодействия молекул в жидкости.
10. Объясните капиллярное поднятие (опускание) жидкости.

ЛР №5 Определение динамической вязкости авиационного масла

1. Что характеризуют динамическая и кинематическая вязкости?
2. Как зависят от температуры вязкости большинства жидкостей?
3. Какой безразмерный комплекс определяет характер обтекания твёрдого тела жидкостью?
4. Напишите и поясните выражение для силы Стокса и силы Архимеда.
5. Какие силы действуют на шарик, падающий в вязкой жидкости? Как эти силы связаны между собой в случае установившегося движения?
6. Почему из расчётов следует исключить данные, полученные в случае падения шарика с прилипшими к нему пузырьками воздуха?
7. Влияют ли размеры сосуда, в котором находится жидкость, на величину силы сопротивления трению, действующей на тело, движущееся в этой жидкости? Если да, то почему?

ЛР №6 Измерение удельного сопротивления проводника

1. Что называется силой тока. Дайте определение. Напишите формулу, связывающую силу тока с электрическим зарядом, проходящим по проводнику.
2. Какие частицы обуславливают электрический ток в металлах?
3. Сформулируйте и напишите закон Ома для однородного участка цепи. В каких единицах измеряются входящие в него величины?
4. От каких параметров зависит электрическое сопротивление проводников, например металлической проволоки?
5. Что такое удельное электрическое сопротивление проводника. Физический смысл. Единица измерения.
6. Как зависит удельное сопротивление металлических проводников от температуры?
7. Что такое прямые измерения? Приведите примеры. Как определяется погрешность прямых измерений?

8. Что такое косвенные измерения? Приведите примеры. Как определяется погрешность косвенных измерений?

ЛР №7 Определение горизонтальной составляющей напряженности магнитного поля Земли

1. Каким образом можно измерить вертикальную составляющую магнитного поля Земли с помощью тангенс-гальванометра? Нужно ли изменить его конструкцию и как это сделать?
2. Что характеризуют вектора магнитной индукции и напряженности
3. магнитного поля и какова зависимость между ними?
4. Применить правило буравчика для определения направления магнитных полей прямого и кругового тока.
5. Сформулировать и записать закон Био-Савара-Лапласа.
6. Вывести напряженность магнитного поля прямого тока конечных размеров.
7. Вывести напряженность магнитного поля на оси и в центре кругового тока.

ЛР №8 Определение удельного заряда электрона

1. Чему равна по величине и направлению сила Лоренца?
2. Какова траектория движущейся заряженной частицы, движущейся: 1) по направлению магнитного поля; 2) перпендикулярно магнитному полю; 3) под углом 30° к магнитному полю.
3. Как найти абсолютный заряд электрона, зная его удельный заряд?
4. Вывести расчетную формулу для определения удельного заряда электрона.
5. Опишите метод, применяемый в данной работе. Какие еще существуют методы определения удельного заряда?

Семестр 3

ЛР №1 Исследование свойств стоячих электромагнитных волн

1. Что называется электромагнитной волной, какие её свойства?
2. Запишите уравнение электромагнитной волны и прокомментируйте его.
3. Дайте определение параметрам волны λ, ω, \vec{k} . Запишите соотношения, которые существуют между ними.
4. Какой будет скорость распространения и длина электромагнитной волны в диэлектрической среде?
5. Что такое стоячие электромагнитные волны? Как они образуются?
6. Запишите и прокомментируйте уравнение стоячей электромагнитной волны.
7. Что такое узлы и пучности стоячей волны? Какие условия их возникновения?

8. Запишите выражения для координат узлов и пучностей стоячей волны. Каково расстояние между соседними узлами (пучностями)? Каково расстояние от узла до ближайшей пучности?

ЛР №2 Определение фокусного расстояния линзы

1. Дайте определение оптической оси, фокальной плоскости и главных фокусов линзы.
2. При каких условиях система из собирающей и рассеивающей линз будет давать действительное изображение?
3. Для каких лучей применима формула линзы?
4. В чем заключается явление хроматической аберрации, сферической аберрации?
5. Для какой цели применяются при фотографировании светофильтры?
6. Опишите методику измерения фокусного расстояния для рассеивающей линзы.
7. Покажите, что если расстояние между объектом и экраном превышает $4F$, то изображение на экране может быть получено при двух различных положениях линзы.

ЛР №3 Моделирование оптических приборов и определение их увеличения

1. Какие кардинальные точки и плоскости определяют центрированную оптическую систему? Что такое фокусное расстояние и оптическая сила системы?
2. Напишите формулу центрированной оптической системы.
3. Какая линза называется собирающей, а какая рассеивающей? Какие изображения называются действительными, а какие мнимыми?
4. Что такое телеобъектив и чем он отличается от объектива?
5. Из каких основных элементов состоит зрительная труба (телескоп) и какие функции эти элементы выполняют?
6. Поясните ход лучей в телескопе Кеплера. В чем его преимущество по сравнению с телескопом Галилея? В чем преимущество телескопа Галилея?
7. Как определяется увеличение телескопа?

ЛР №4 Определение постоянной дифракционной решетки

1. Что такое дифракция?
2. Что такое дифракционная решетка? Как записывается формула для дифракционной решетки?
3. Как, с помощью дифракционной решетки, определить длину волны света?
4. Сколько дифракционных максимумов можно наблюдать на экране?
5. Что такое «нулевой максимум»?

6. Как скажется на дифракционной картине (на экране) уменьшение параметра дифракционной решетки?
7. При каком условии дифракция становится заметной (большой)?

ЛР №5 Определение радиуса кривизны с помощью колец Ньютона

1. Что называется полосами равного наклона и равной толщины?
2. Почему кольца Ньютона – это линии равной толщины?
3. Объясните механизм возникновения колец Ньютона.
4. Выведите формулу радиусов светлых и темных колец Ньютона при наблюдении в отраженном свете.
5. Запишите формулы радиусов темных и светлых колец в проходящем свете.

ЛР №6 Исследование свойств поляризованного света

1. Какие световые лучи называют: а) естественными; б) поляризованными; в) частично поляризованными? г) плоско-поляризованными; д) эллиптически поляризованными; е) поляризованными по кругу?
2. Какую величину называют степенью поляризации светового луча? Чему равна степень поляризации: а) естественного луча; б) плоско-поляризованного луча?
3. Какой прибор называется поляризатором, анализатором?
4. Изобразите расположение лучей в случае получения плоско-поляризованного света при отражении от диэлектрика. Какой из лучей в этой схеме: а) естественный; б) частично поляризованный; в) плоско-поляризованный?
5. Сформулируйте закон Брюстера. При каком соотношении углов падения и преломления светового луча наблюдается полная поляризация света при отражении от диэлектрика?
6. В чем заключается явление двойного лучепреломления и как оно объясняется? Какое направление в кристалле называется оптической осью?
7. Сформулируйте закон Малюса.

ЛР №7 Исследование дисперсии оптического стекла

1. Из каких основных частей состоит гониометр, их назначение?
2. Что такое дисперсия света?
3. Чем отличается нормальная дисперсия от аномальной?
4. По каким признакам можно отличить спектры, полученные с помощью призмы и дифракционной решетки?
5. В чём заключаются основные положения и выводы электронной теории дисперсии света?
6. Почему металлы сильно поглощают свет?

9.6.3 Типовые ситуационные задачи для проведения текущего контроля

1. Вертолёт Ingenuity 19 апреля 2021 года совершил свой первый тестовый полёт на Марсе, поднявшись на высоту 3 метра, завис над поверхностью примерно на 30 секунд, после чего успешно опустился обратно на поверхность планеты.

Рассчитайте во сколько раз отличается угловая скорость вращения винта вертолета в атмосфере Марса, при которой он парит, от угловой скорости, при которой парение вертолета достигается в атмосфере Земли.

2. 13 апреля 2029 года околоземный астероид Апофис диаметром около 330 м пролетит на расстоянии около 31 900 км от поверхности нашей планеты. Но есть вероятность, что Апофис, приблизившись к Земле, может проскочить через так называемую «замочную скважину» - очень небольшую область околоземного пространства, в которой благодаря гравитации планеты, орбита астероида может измениться так, что сделав очередной круг, он может ударить по Земле в 2036-м (так же, 13 апреля), или во время одного из последующих циклических сближений с нашей планетой.

Предложите варианты предотвращения угрозы столкновения астероида с Землей и дайте их физическое обоснование.

9.6.4 Контрольные вопросы промежуточной аттестации по итогам освоения дисциплины

2-й семестр

Перечень вопросов к экзамену:

Механика

1. Основные понятия кинематики поступательного движения: скорость, ускорение, траектория, путь, центр масс. Системы координат.
2. Вращательное движение. Центростремительное (нормальное) ускорение, угловая скорость, угловое ускорение, радиус кривизны.
3. Динамика. Материальная точка. Сила. Масса. Импульс. Инерциальные системы отсчёта. Законы Ньютона.
4. II-ой закон Ньютона. Закон сохранения импульса.
5. Реактивное движение. Уравнение движения тела с переменной массой.
6. Близко- и дальнедействующие силы. Силы трения. Силы упругости. Закон всемирного тяготения.
7. Космические скорости.

8. Работа. Кинетическая и потенциальная энергии. Закон сохранения механической энергии.
9. Центральный удар.
10. Основной закон динамика вращательного движения. Момент силы. Момент импульса. Момент инерции. Теорема Гюйгенса-Штейнера.
11. Кинетическая энергия вращающегося тела.
12. Закон сохранения момента импульса. Гироскоп.
13. Гармонические колебания и их параметры. Уравнения колебаний пружинного, математического и физического маятников.
14. Собственные и вынужденные колебания. Затухающие колебания. Резонанс.
15. Принцип относительности Галилея. Постулаты специальной теории относительности.
16. Преобразования Лоренца. Относительность расстояний и промежутков времени.
17. Связь массы и энергии.

Термодинамика

18. Изопроецессы. Законы идеальных газов
19. Молекулярно-кинетическая теория (основные положения). Закон Авогадро. Уравнение Клапейрона-Клаузиуса.
20. Распределение Максвелла молекул по скоростям. Средняя скорость. Средняя квадратичная скорость.
21. Барометрическая формула. Распределение Больцмана.
22. Диффузия. Внутреннее трение. Теплопроводность. Уравнения для описания этих процессов.
23. Теплоёмкость и её виды. Формула Майера.
24. Первое начало термодинамики.
25. Адиабатический процесс. Формула Пуассона. Работа в изо- и адиабатических процессах.
26. Молекулярно-кинетическая теория теплоёмкости. Степени свободы.
27. Круговые процессы. Цикл Карно.
28. Статистический смысл энтропии. Формула Клаузиуса.
29. Второе начало термодинамики.
30. Реальные газы. Изотермы Эндрюса. Уравнение Ван-дер-Ваальса.
31. Эффект Джоуля-Томсона. Сжижение газов.
32. Жидкости. Поверхностное натяжение. Формула Лапласа.
33. Строение твёрдых тел. Энергия молекул газа, жидкости и твёрдого тела.

Электродинамика

1. Закон Кулона.
2. Напряженность электрического поля.
3. Электрическое поле. Напряженность поля.
4. Принцип суперпозиции электрических полей.

5. Поток напряженности. Теорема Остроградского—Гаусса для электростатического поля в вакууме.
6. Работа, совершаемая силами электростатического поля при перемещении в нем электрического заряда.
7. Потенциал электростатического поля.
8. Примеры применения теоремы Остроградского—Гаусса к расчету электростатических полей в вакууме.
9. Дипольные моменты молекул диэлектрика.
10. Поляризация диэлектриков.
11. Теорема Остроградского—Гаусса . для электростатического поля в среде.
12. Условия для электростатического поля на границе раздела изотропных диэлектрических сред.
13. Проводники в электростатическом поле.
14. Емкость уединенного проводника.
15. Взаимная емкость. Конденсаторы.
16. Энергия заряженного проводника и электрического поля.
17. Понятие об электрическом токе.
18. Сила и плотность тока.
19. Основы классической электронной теории электропроводности металлов.
20. Сторонние силы.
21. Законы Ома и Джоуля—Ленца.
22. Правила Кирхгофа.
23. Законы электролиза Фарадея, Электролитическая диссоциация.
24. Атомность электрических зарядов.
25. Электролитическая проводимость жидкостей.
26. Электропроводность газов.
27. Понятие о различных типах газового разряда.
28. Некоторые сведения о плазме.
29. Магнитная индукция. Сила Лоренца.
30. Закон Ампера.
31. Закон Био—Савара—Лапласа.
32. Некоторые простейшие примеры магнитных полей в вакууме.
33. Магнитное взаимодействие проводников с токами. Контур с током в магнитном поле.
34. Закон полного тока для магнитного поля в вакууме.
35. Магнитный поток. Теорема Остроградского—Гаусса для магнитного поля.
36. Работа перемещения проводника с током в постоянном магнитном поле.
37. Движение заряженных частиц в постоянном магнитном поле.
38. Явление Холла.
39. Удельный заряд частиц. Масс-спектрометрия.
40. Ускорители заряженных частиц.
41. Магнитные моменты электронов и атомов.
42. Атом в магнитном поле.
43. Диамагнетики и парамагнетики в магнитном поле.

44. Магнитное поле в веществе.
45. Ферромагнетики.
46. Условия для магнитного поля на границе раздела изотропных сред. Магнитные цепи.
47. Основной закон электромагнитной индукции.
48. Явление самоиндукции.
49. Взаимная индукция.
50. Энергия магнитного поля в неферромагнитной изотропной среде.
51. Закон сохранения энергии для магнитного поля в неферромагнитной среде.
52. Общая характеристика теории Максвелла.
53. Первое уравнение Максвелла.
54. Ток смещения. Второе уравнение Максвелла.
55. Третье и четвертое уравнения Максвелла.
56. Полная система уравнений Максвелла для электромагнитного поля.

3-й семестр

Перечень вопросов к экзамену:

Колебания и волны

1. Гармонические колебания.
2. Механические гармонические колебания.
3. Свободные гармонические колебания в электрическом колебательном контуре.
4. Сложение гармонических колебаний.
5. Затухающие колебания.
6. Вынужденные механические колебания.
7. Вынужденные электрические колебания.
8. Продольные и поперечные волны в упругой среде.
9. Уравнение бегущей волны.
10. Фазовая скорость и энергия упругих волн.
11. Принцип суперпозиции волн. Групповая скорость.
12. Интерференция волн. Стоячие волны.
13. Эффект Доплера в акустике.
14. Свойства электромагнитных волн.
15. Энергия электромагнитных волн.
16. Излучение электромагнитных волн.
17. Шкала электромагнитных волн.
18. Отражение и преломление электромагнитных волн на границе раздела двух диэлектрических сред.
19. Эффект Доплера для электромагнитных волн.

Оптика

20. Закон прямолинейного распространения света. Закон независимости световых лучей. Закон отражения света. Закон преломления света. Закон

- обратимости световых лучей. Показатель преломления. Полное внутреннее отражение.
21. Теория истечения, волновая теория. Зависимость между показателем преломления и скоростью света в веществе.
 22. Принцип Ферма. Оптическая длина пути.
 23. Скорость света. Астрономические наблюдения Рёмера. Определение скорости света по аберрации света Бредли. Опыт Физо. Опыт Фуко и Физо. Опыт Майкельсона.
 24. Световой поток. Функция видности.
 25. Фотометрические величины и их единицы.
 26. Основные понятия и определения (гомоцентрический пучок; астигматическая разность; точечное или стигматическое изображение; действительное и мнимое изображения; сопряженные точки; пространство предметов и пространство изображений).
 27. Центрированная оптическая система. Фокусы. Фокальные плоскости. Линейное увеличение. Главные точки и главные плоскости. Оптическая сила. Формула Ньютона.
 28. Продольное увеличение. Угловое увеличение. Связь между линейным, продольным и угловым увеличениями.
 29. Сложение оптических систем. Оптическая система суммарной системы. Формула кардинальных плоскостей суммарной системы.
 30. Преломление на сферической поверхности. Параксиальные лучи. Теорема Лагранжа-Гельмгольца.
 31. Линза. Тонкая линза.
 32. Погрешности оптических систем. Оптические приборы.
 33. Световая волна. Интенсивность света. Связь между интенсивностью света и амплитудой световой волны.
 34. Интерференция световых волн. Продолжительность цуга волн. Оптическая разность хода. Зеркала Френеля. Бипризма Френеля.
 35. Интерференция многих волн. Векторная диаграмма. Условия для главных максимумов и интерференционных минимумов.
 36. Принцип Гюйгенса – Френеля.
 37. Зоны Френеля. Обоснование с точки зрения волновой оптики закона прямолинейного распространения света.
 38. Дифракция Френеля от простейших преград.
 39. Дифракция Фраунгофера от щели и на круглом отверстии.
 40. Дифракционная решетка.
 41. Дифракция на пространственной решетке.
 42. Голография.
 43. Дисперсия света. Нормальная и аномальная дисперсии.
 44. Групповая скорость.
 45. Классическая электронная теория дисперсии света.
 46. Поглощение света. Закон Бугера-Ламберта. Закон Бера.
 47. Рассеяние света. Рассеяние в мутных средах. Рэлеевское рассеяние.

48. Поляризация света при отражении и преломлении на границе раздела двух диэлектрических сред.
49. Двойное лучепреломление.
50. Интерференция поляризованного света.
51. Искусственная оптическая анизотропия.
52. Вращение плоскости поляризации. Закон Био.
53. Тепловое излучение. Закон Кирхгофа.
54. Законы Стефана—Больцмана и Вина.
55. Формула Планка.

Квантовая физика

56. Фотоэффект, его виды. Формула Эйнштейна для фотоэффекта.
57. Фотоны их энергия и импульс. Эффект Комптона.
58. Опыт Лебедева. Давление света.
59. Длина волны де Бройля.
60. Принцип неопределённости Гейзенберга.
61. Волновая функция и её физический смысл. Уравнение Шредингера.
62. Туннельный эффект. Электрон в потенциальной яме.
63. Модель атома Томсона. Опыт Резерфорда. Планетарная модель атома.
64. Постулаты Бора. Вывод серийной формулы. Формула Бальмера для спектра водорода.
65. Спонтанное и вынужденное излучение. Принцип работы лазеров.
66. Виды лазеров. Принцип работы гелий-неонового, рубинового и полупроводникового лазеров.

Ядерная физика.

67. Естественная радиоактивность и её закономерности. Правила смещения. Уравнения альфа- и бета-распада. Период полураспада.
68. Реакции деления и синтеза. Дефект массы и энергия связи. Критическая масса.
69. Элементарные частицы.
70. Ионизирующие излучения и их характеристики. Космические лучи, их состав и характеристики.

9.6.5 Типовые расчетные задачи для проведения промежуточной аттестации

Задача 1. Движущееся тело массой m_1 , ударяется о неподвижное тело массой m_2 . Считая удар неупругим и центральным, найти, какая часть кинетической энергии $W_{к1}$ первого тела переходит при ударе в тепло. Задачу решить сначала в общем виде, а затем рассмотреть случаи: а) $m_1 = m_2$; б) $m_1 = 9m_2$.

Задача 2. Из орудия массой $m_1 = 5$ т вылетает снаряд массой $m_2 = 100$ кг. Кинетическая энергия снаряда при вылете $W_{к2} = 7,5$ МДж. Какую кинетическую энергию $W_{к1}$ получает орудие вследствие отдачи?

Задача 3. Две гири с массами $m_1=2$ кг и $m_2=1$ кг соединены нитью, перекинутой через блок массой $m=1$ кг. Найти ускорение a , с которым движутся гири, и силы натяжения T_1 и T_2 нитей, к которым подвешены гири. Блок считать однородным диском. Трением пренебречь.

Задача 4. Горизонтальная платформа массой $m = 100$ кг вращается вокруг вертикальной оси, проходящей через центр платформы, с частотой $n_1 = 10$ об/мин. Человек массой $m_0 = 60$ кг стоит при этом на краю платформы. С какой частотой n_2 начнет вращаться платформа, если человек перейдет от края платформы к ее центру? Считать платформу однородным диском, а человека — точечной массой.

Задача 5. Какое число молекул n содержит единица объема сосуда при температуре $t = 10^\circ \text{C}$ и давлении $p = 1,33 \cdot 10^{-9}$ Па?

Задача 6. Какое давление p надо приложить, чтобы углекислый газ превратить в жидкую углекислоту при температурах $t_1 = 31^\circ \text{C}$ и $t_2 = 50^\circ \text{C}$? Какой наибольший объем V_{max} может занимать масса $m = 1$ кг жидкой углекислоты? Какое наибольшее давление p_{max} насыщенного пара жидкой углекислоты?

9.6.6 Типовые ситуационные задачи для проведения промежуточной аттестации

Задача 1. Объясните, почему правый берег Волги крут.

Задача 2. Объясните с точки зрения молекулярно-кинетической теории явление внутреннего трения между слоями жидкости (газа), возникающее при ламинарном течении жидкости (газа).

Задача 3. Исходя из принципа Гюйгенса-Френеля объясните явление рассеяния света в мутной среде (дым, туман ...).

Задача 4. В Бермудском треугольнике был обнаружен корабль без видимых повреждений, но без экипажа. Было видно, что экипаж покинул корабль в спешке. Выдвиньте гипотезу о причине данного странного события с точки зрения качки корабля на волнах.

10 Методические рекомендации для обучающихся по освоению дисциплины

Изучение дисциплины «Физика» организуется в виде лекций, практических занятий, лабораторных работ и самостоятельной работы. Продолжительность изучения дисциплины – два семестра. Уровень и качество знаний обучающихся оцениваются по результатам входного контроля, текущего контроля успеваемости и промежуточной аттестации по итогам освоения дисциплины в виде экзаменов во 2 и 3 семестре.

Лекция – основная форма систематического, последовательного устного изложения учебного материала. Чтение лекций, как правило, осуществляется наиболее профессионально подготовленными преподавателями университета. Основными задачами лекций являются:

- ознакомление обучающихся с целями, задачами и структурой изучаемой дисциплины, ее местом в системе наук и связями с другими дисциплинами;
- изложение комплекса основных научных понятий, законов, методов, принципов данной дисциплины;

Лекции мотивируют обучающегося на самостоятельный поиск и изучение научной и специальной литературы и других источников по темам дисциплины, ориентируют на выявление, формулирование и исследование наиболее актуальных вопросов и проблем физики. Значимым фактором полноценной и плодотворной работы обучающегося на лекции является культура ведения конспекта. Слушая лекцию, необходимо научиться выделять и фиксировать ее ключевые моменты, записывая их более четко и выделяя каким-либо способом из общего текста. Кроме того, необходимо научиться делать понятные для обучающегося сокращения при записи текста лекции и стремиться освоить быструю манеру письма и рубрикацию материала.

Практические занятия по дисциплине «Физика» проводятся в соответствии с учебно-тематическим планом по отдельным группам. Цель практических занятий – закрепить теоретические знания, полученные студентами на лекциях и в результате самостоятельного изучения соответствующих разделов рекомендуемой литературы, а также приобрести начальные практические навыки анализа наблюдаемых физических явлений.

Темы практических занятий заранее сообщаются обучающимся для того, чтобы они имели возможность подготовиться и проработать соответствующие теоретические вопросы дисциплины. В начале каждого практического занятия преподаватель кратко доводит до обучающихся цель и задачи занятия и сообщает обучающимся основные законы необходимые для решения задач на занятии.

В рамках практического занятия обучающиеся решают задачи и разбирают практические задачи самостоятельно или при помощи преподавателя. Препода-

ватель выступает в роли консультанта, осуществляет контроль полученных обучающимися результатов.

В рамках практического занятия могут быть проведены: слушание и обсуждение докладов, устный опрос, тестирование.

Отсутствие обучающихся на занятиях или их неактивное участие на них может быть компенсировано самостоятельным выполнением дополнительных заданий и представлением их на проверку преподавателю.

Лабораторные работы призваны развить навыки экспериментальной физической деятельности обучающихся, а также закрепить физические знания опытным путём. В процессе лабораторных работ студенты проводят самостоятельное ознакомление с теорией, лежащей в основе изучаемого явления используя методические пособия. На занятиях лабораторные работы проводятся в присутствии преподавателя, контролирующего процесс их проведения и консультирующего студентов. По результатам проведения работ студентами оформляется отчёт и проводится его защита. В процессе защиты отчёта по лабораторной работе преподаватель проверяет знание основных законов, на которых базируется изучаемое явление, а также правильность и самостоятельность написания отчёта.

Целью *самостоятельной работы* обучающихся при изучении настоящей учебной дисциплины является выработка ими навыков работы с научной и учебной литературой, а также развитие у обучающихся устойчивых способностей к самостоятельному изучению и обработке полученной информации.

В процессе самостоятельной работы обучающийся должен воспринимать, осмысливать и углублять получаемую информацию, решать практические задачи, подготавливать доклады, выполнять домашние задания, овладевать профессионально необходимыми навыками. Самостоятельная работа обучающегося весьма многообразна и содержательна. Она включает следующие виды занятий:

- самостоятельный подбор, изучение, конспектирование, анализ учебно-методической и научной литературы, периодических научных изданий,
- индивидуальная творческая работа по осмыслению собранной информации, проведению сравнительного анализа и синтеза материалов, полученных из разных источников, интерпретации информации, выполнение домашних заданий;
- завершающий этап самостоятельной работы – подготовка к сдаче экзамена по дисциплине, предполагающая интеграцию и систематизацию всех полученных при изучении учебной дисциплины знаний.

По Положению о самостоятельной работе студентов Университета содержание внеаудиторной самостоятельной работы для изучения дисциплины «Физика» может быть рекомендовано в соответствии со следующими ее видами, разделенными по целевому признаку:

- а) для овладения знаниями:
 - чтение текста (учебника, первоисточника, дополнительной литературы);

- составление плана текста;
- конспектирование текста;
- работа со словарями и справочниками;
- работа с электронными информационными ресурсами и информационной телекоммуникационной сети Интернет и др.;
- б) для закрепления и систематизации знаний:
 - работа с конспектом лекции (обработка текста);
 - работа над учебным материалом (учебника, первоисточника, дополнительной литературы);
 - составление плана и тезисов ответа;
 - составление альбомов, таблиц, схем для систематизации учебного материала;
 - ответы на контрольные вопросы;
 - подготовка тезисов сообщений к выступлению на практическом занятии;
 - подготовка к сдаче зачета и др.;
- в) для формирования умений и навыков:
 - решение физических задач;
 - проектирование и моделирование разных видов и компонентов профессиональной деятельности.

В процессе изучения дисциплины «Физика» важно постоянно пополнять и расширять свои знания. Изучение рекомендованной литературы и других источников информации является важной составной частью восприятия и усвоения новых знаний. Кроме того, необходимо отметить, что, в определенном смысле, качественный уровень всей самостоятельной работы обучающегося определяется уровнем самоконтроля.

Текущий контроль знаний студентов осуществляется по итогам:


- работы на практических занятиях,
- выполнения лабораторных работ,
- решения расчетных и ситуационных задач.

Рабочая программа дисциплины составлена в соответствии с требованиями ФГОС ВО по специальности 25.05.05 «Эксплуатация воздушных судов и организация воздушного движения» специализации «Организация радиотехнического обеспечения полетов воздушных судов».

Рассмотрена и утверждена на заседании кафедры №5 Физики и химии «13» 02 2021 года, протокол № 7.

Разработчик:


к.ф.-м.н.


(ученая степень, ученое звание, фамилия и инициалы разработчика)

Тимофеев В.Н.

заведующий кафедрой № 5

д.ф.-м.н., профессор



(ученая степень, ученое звание, фамилия и инициалы заведующего кафедрой)

Арбузов В.И.

Программа согласована:

Руководитель ОПОП ВО

Д.т.н., с.н.с.


(ученая степень, ученое звание, фамилия и инициалы руководителя ОПОП)

Кудряков С.А.

Программа рассмотрена и одобрена на заседании Учебно-методического совета Университета «16» июня 2021 года, протокол № 7.